

Zoo Rostock

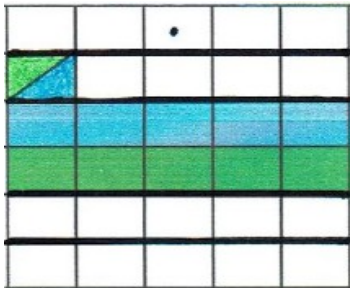


Schreibe die Frage, Rechnung und
Antwort auf!

Der Zoodirektor hat vom 01.05.2020 bis zum 20.05.2020 Urlaub. Er gibt jeden Tag 35 Euro aus.

Frage: _____

Rechnung:

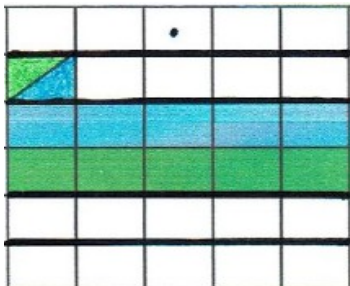


Antwort: _____

Die beiden Tiger fressen am Tag zusammen 14 Kilogramm Fleisch. Petra füttert die Tiger 26 Tage.

Frage: _____

Rechnung:




Antwort: _____

Der Zoo hat vier Zebras. Der Zoodirektor hat im Jahr 2019 jeden Monat 287 Euro für das Futter bezahlt.

Frage: _____

Rechnung:





Antwort: _____

Die halbe Stunde

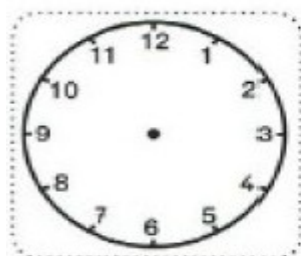
Eine volle Stunde hat 60 Minuten. Die **halbe Stunde** hat **30 Minuten**. Der **kleine Zeiger** zeigt die **Stunden** an. Der **große Zeiger** zeigt die **Minuten** an. Zeigt der große Zeiger auf die **6**, ist eine **halbe Stunde** vorbei.



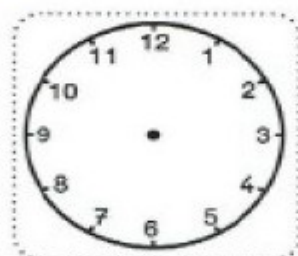
1. Schreibe die Uhrzeiten auf.



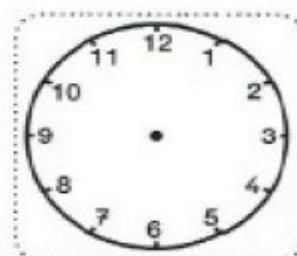
2. Zeichne die Zeiger in die Uhren.



12:30 Uhr



8:30 Uhr



9:30 Uhr

3. Sachrechnen

Schreibe die Uhrzeit auf die Linie.

Schreibe auf, wann die Kinder sich treffen.




Hast du heute Zeit?



Ja, in 20 Minuten.

Die Kinder treffen sich um 8:20 Uhr




Hast du heute Zeit?



Ja, in einer Stunde.



Die Kinder treffen sich um _____ Uhr.



Hast du heute Zeit?



Ja, in zwei Stunden.



Die Kinder treffen sich um _____ Uhr.