

Restaurant

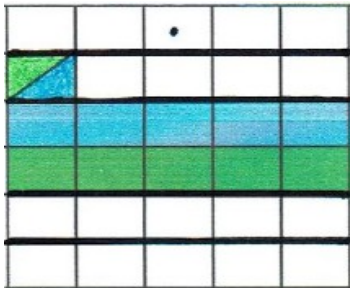


Schreibe die Frage, Rechnung und
Antwort auf!

Der Restaurantbesitzer kauft an 34 Tagen Lachsfilets. Im Restaurant verkauft er jeden Tag 27 Lachsfilets.

Frage: _____

Rechnung:

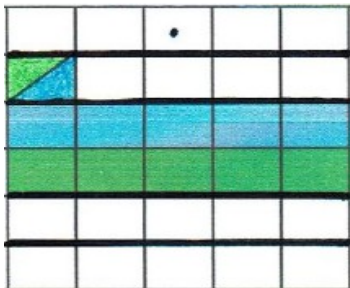


Antwort: _____

Das kleine Restaurant hat 26 Tage im Monat geöffnet. Jeden Tag kommen 57 Gäste.

Frage: _____

Rechnung:

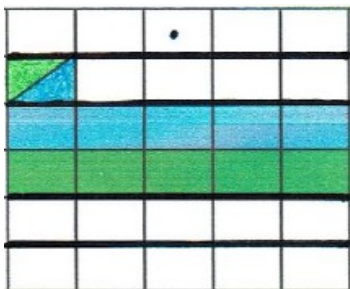


Antwort: _____

Das große Restaurant hat in der Woche 48 Stunden geöffnet. Im Restaurant arbeiten 16 Mitarbeiter.

Frage: _____

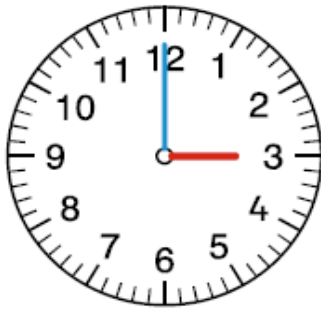
Rechnung:



Antwort: _____

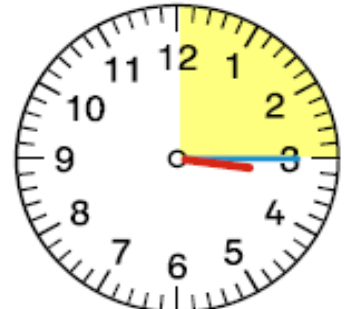
Die Viertelstunde

Eine volle Stunde hat 60 Minuten. Die **Viertelstunde** hat **15 Minuten**. Der **kleine Zeiger** zeigt die **Stunden** an. Der **große Zeiger** zeigt die **Minuten** an. Zeigt der große Zeiger auf die **3**, ist eine **Viertelstunde** vorbei.




15:00 Uhr

Eine Viertelstunde
hat 15 Minuten.

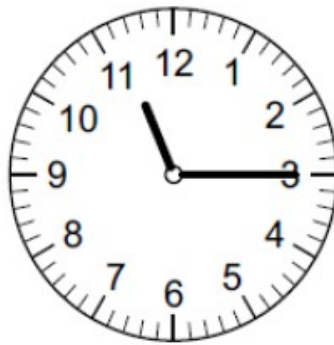


15:15 Uhr

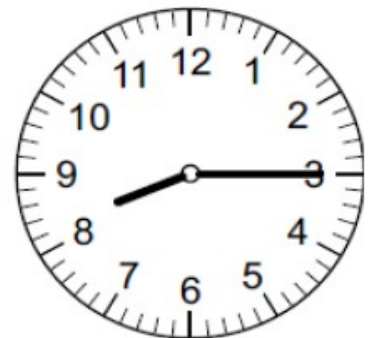
1. Schreibe die Uhrzeiten auf.



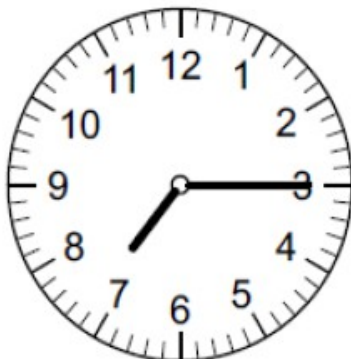
_____ Uhr



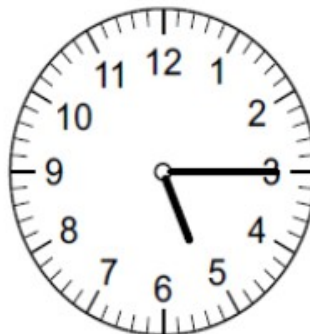
_____ Uhr




_____ Uhr



_____ Uhr

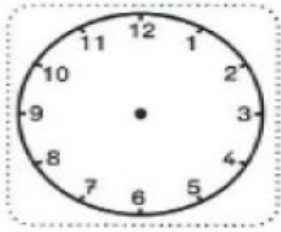


_____ Uhr

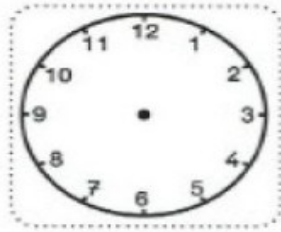


_____ Uhr

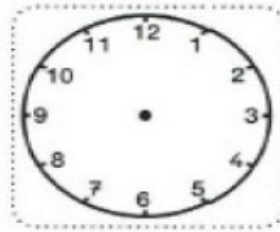
2. Zeichne die Zeiger in die Uhren.



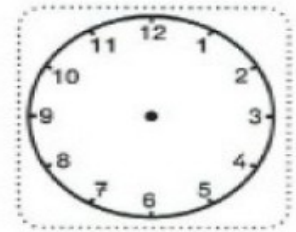
12:15 Uhr



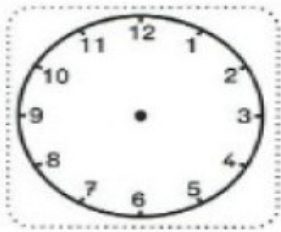
8:15 Uhr



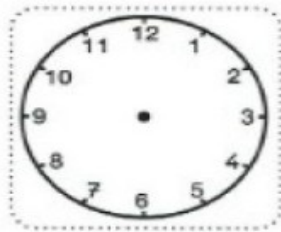
9:15 Uhr



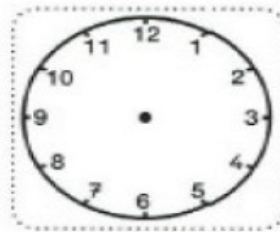
4:15 Uhr



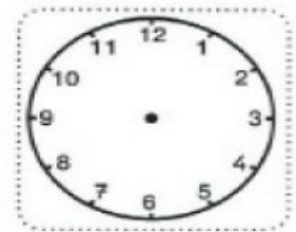
10:15 Uhr



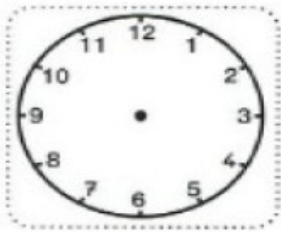
6:15 Uhr



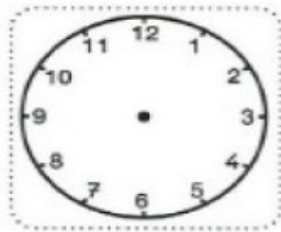
3:15 Uhr



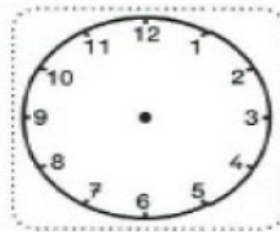
1:15 Uhr



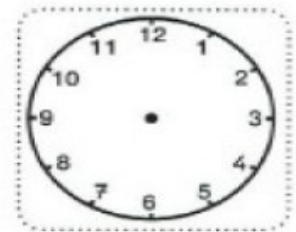
2:15 Uhr



5:15 Uhr



7:15 Uhr



11:15 Uhr